

# Zoo Stralsund

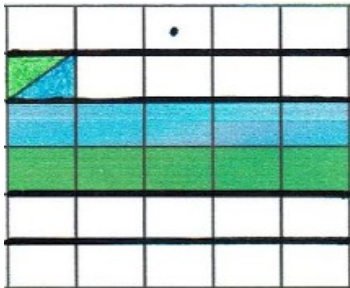


Schreibe die Frage, Rechnung und  
Antwort auf!

**Der Zoo hat vom 27.04.2020 bis zum 10.05.2020 geöffnet. Jeden Tag kommen 97  
Besucher.**

Frage: \_\_\_\_\_

Rechnung:

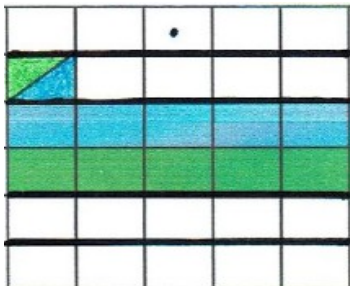


Antwort: \_\_\_\_\_

**Der Tierpfleger hat für zwei Wochen Futter für zwei Braunbären bestellt. Die beiden  
Bären fressen am Tag zusammen 78 Kilogramm Futter.**

Frage: \_\_\_\_\_

Rechnung:




Antwort: \_\_\_\_\_

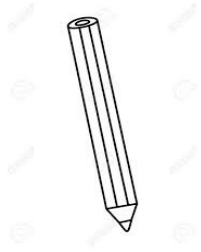
**Der Zoo hat zwei Lamas. Der Zoodirektor hat im Jahr 2019 jeden Monat 174 Euro für  
das Futter bezahlt.**

Frage: \_\_\_\_\_

Rechnung:



Antwort: \_\_\_\_\_



# Schule



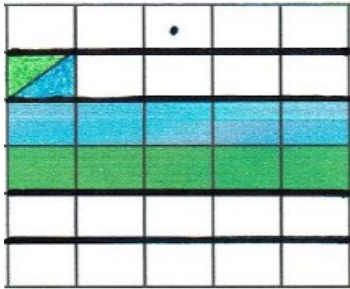
Schreibe die Frage, Rechnung und Antwort auf!

**Frau Müller unterrichtet 12 Klassen. In jeder Klasse sind 29 Schüler.**

Frage:

---

Rechnung:



Antwort:

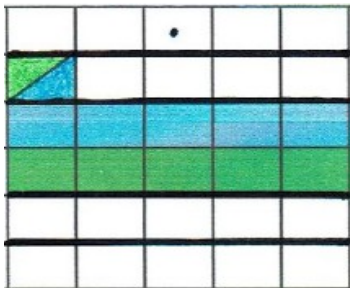
---

**Vivien malt gerne Zuhause und in der Schule. Sie hat im Jahr 2019 jeden Monat eine Packung Buntstifte gekauft. In jeder Packung waren 24 Buntstifte.**

Frage:

---

Rechnung:



Antwort:

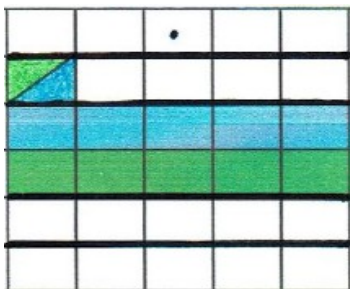
---

**Das letzte Schuljahr hatte 39 Schulwochen. Alessandro hatte jede Woche 27 Stunden.**

Frage:

---

Rechnung:



Antwort:

---



## Welche Bälle treffen nicht ins Tor?

1. Rechne aus und streiche die falschen Ergebnisse durch.

Tipp: Rechne nach der Regel **Punkt vor Strich**.

Wir beginnen mit der Punktrechnung.

Beispielrechnung:

$$9 \cdot 80 - 60 = 660$$

1. Schritt: Ich rechne  $9 \cdot 80 = 720$

2. Schritt: Ich rechne  $720 - 60 = 660$

Welche Bälle treffen nicht ins Tor ?  
Streiche sie durch oder decke sie ab (X / ●).



9·80-60      7·90+30      9·80-50

8·80+30      8·90-70      9·70+40

8·80+20      8·90-60



www.mathemonsterchen.de

Welche Bälle treffen nicht ins Tor ?  
Streiche sie durch oder decke sie ab (X / ●).



4·90+60      3·90+80      8·60-30

5·70+70      8·60-60      5·80+40

5·90-30      7·70-40



www.mathemonsterchen.de

Welche Bälle treffen nicht ins Tor ?  
Streiche sie durch oder decke sie ab (X / ●).



7·70+40      9·50+70      8·60+50


6·90-10      8·60+40      9·60-20

7·80-10      7·80-30



www.mathemonsterchen.de

Welche Bälle treffen nicht ins Tor ?  
Streiche sie durch oder decke sie ab (X / ●).



7·70+80      9·60+70      6·90+50

8·80-40      8·70+50      7·90-20

9·80-70      8·80-30



www.mathemonsterchen.de